

# 中学入試 問題解説 社会

## 1の例①（文章で答える問題）

問7 下線部⑥に関連して、いくつかの会社では生ではなく、ゆでるなどしてから粒に分けたトウモロコシ（ホールコーン）を缶詰で販売しています。しかし、ある会社では缶詰から右の写真のようなプラスチックを利用したパック容器に変更し、現在もさらに容器を改良しようとしています。

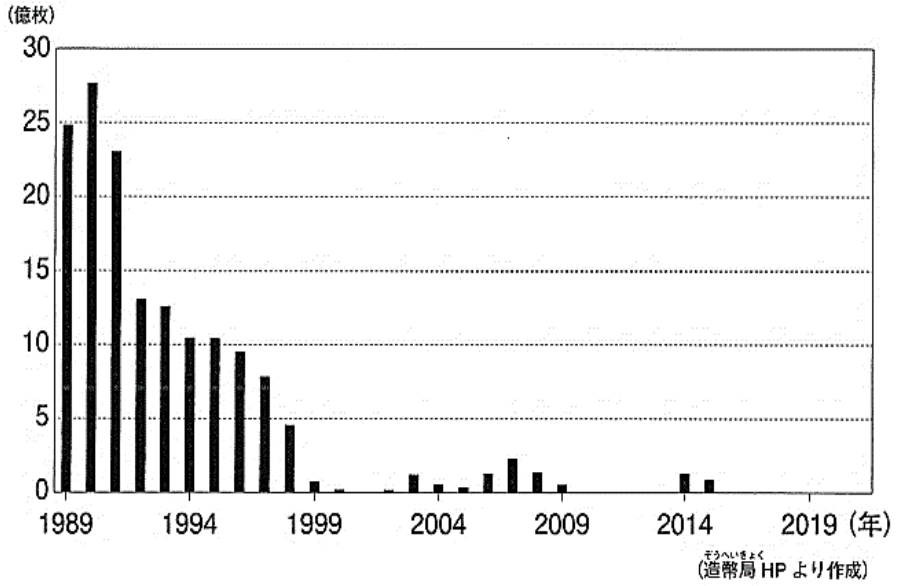
今後、このプラスチックのパック容器をさらに改良した容器にするとしたら、どのようなものが考えられますか。あなたの考えを1つあげて、そのようなものにする理由を説明しなさい。

写真省略

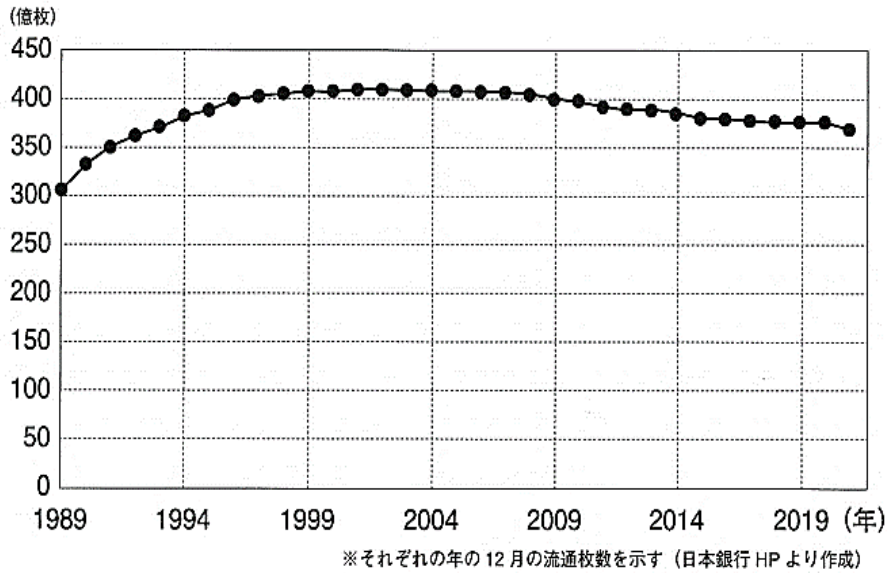
## 1の例②（表・グラフの読み取り問題）

問2 下線部②に関連して、アルミニウムで身近なものと言えば、1円玉です。消費税が導入された際には、釣り銭需要の拡大により、1円玉がたくさん必要になりました。しかし、その後の消費税増税では製造枚数を大幅に減らし、流通枚数も減少する傾向にあります。それはなぜですか。次のグラフを参考に考えて答えなさい。

● 1円玉硬貨 製造枚数



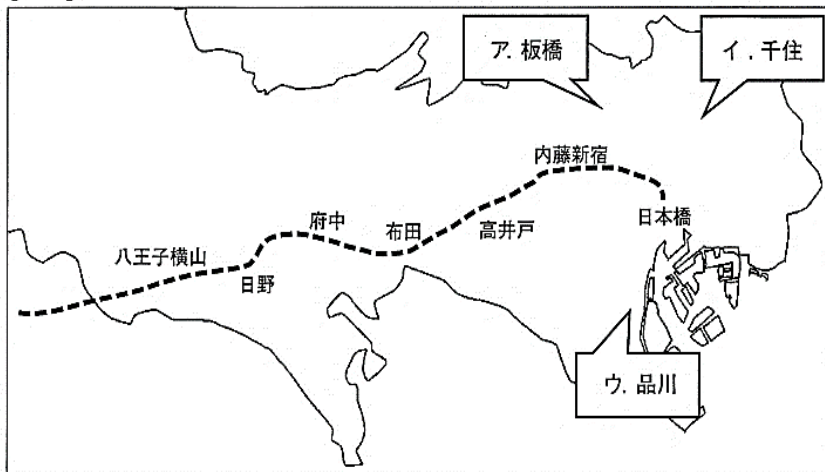
● 1円玉硬貨 流通枚数



## 2・3の例（選択肢を検討する問題）

問1 甲州街道は江戸時代に整備された五街道の一つで、起点は日本橋、終点は下諏訪（現在の長野県下諏訪町）です。下諏訪では、同じく五街道の一つの中山道とつながっています。これに関連して、中山道の最初の宿場を【地図】のア～ウより選び、記号で答えなさい。

【地図】



(注) 甲州街道のおよその位置（点線）と現在の東京都の範囲（実線）を示しています。